

Họ và tên:.....

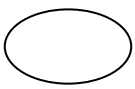
Lớp : 4

BÀI KIỂM TRA CHẤT LƯỢNG CUỐI HỌC KÌ I

Năm học: 2021 - 2022

Môn: Khoa học - Lớp 4

Thời gian: 40 phút (không kể thời gian giao đề)

Điểm	Nhận xét của giáo viên
- Bảng số:  - Bảng chữ:.....

Phần I. Trắc nghiệm

Khoanh tròn vào chữ cái trước Ý trả lời đúng trong mỗi câu dưới đây .

Câu 1. (1 điểm) Trong các vật sau, vật nào cho nước thấm qua?

A. Chai thủy tinh

B. Áo mưa

C. Vải bông

D. Ca nhựa

Câu 2. (1 điểm) Mắt ta không thể nhìn thấy không khí được, bởi vì?

A. Không khí không có mùi

B. Không khí trong suốt không có màu

C. Không khí không có vị

D. Các ý trên đều đúng

Câu 3 (1 điểm) Không khí bao gồm các thành phần nào sau đây?

A. Khí ni-tơ, hơi nước và ô xi.

B. Khí các-bô-níc, bụi, vi khuẩn.....

C. Khí ô-xi, khí ni-tơ và khí các-bô-níc, bụi, vi khuẩn....

D. không khí , bụi, vi khuẩn.....

Câu 4: (1 điểm) Cần ăn phối hợp đạm động vật và đạm thực vật, vì?

A. Đạm động vật có nhiều chất bổ dưỡng quý nhưng thường khó tiêu. Đạm thực vật dễ tiêu nhưng thường thiếu một số chất bổ dưỡng quý.

B. Đạm động vật và đạm thực vật có chứa nhiều chất bổ dưỡng quý.

C. Đạm thực vật dễ tiêu nhưng thường thiếu một số chất bổ dưỡng quý.

D. Ăn phối hợp đạm động vật và đạm thực vật để bữa ăn được ngon miệng hơn.

Câu 5. (1 điểm) Để phòng bệnh do thiếu i-ốt, hằng ngày bạn nên sử dụng:

A. Muối tinh.

B. Bột ngọt.

C. Muối hoặc bột canh có bổ sung i-ốt.

D. Bột nêm A ji ngon

Câu 6. (1 điểm) Những việc làm nào dễ dẫn đến mắc bệnh lây qua đường tiêu hóa?


A. Rửa tay sạch trước khi ăn và sau khi đi đại tiện.

B. Ăn thức ăn ôi, thiu; ăn cá sống, thịt sống; uống nước lã.

C. Sử dụng nhà tiêu hợp vệ sinh, thường xuyên dọn dẹp sạch sẽ nơi đại tiểu tiện.

D. Giữ vệ sinh chuồng gia súc, gia cầm; đại tiểu tiện và đổ rác đúng nơi quy định.

Câu 7. (1điểm) Hoàn thành sơ đồ: Sự chuyển thể của nước (Điền từ vào chỗ chấm cho thích hợp)



Câu 8. (1điểm) Hãy nối thông tin ở cột A với thông tin ở cột B sao cho phù hợp

A
Thiếu chất đạm
Thiếu Vi-ta-min A
Thiếu i-ôt
Thiếu Vi-ta-min D

B
mắt nhìn kém
bị còi xương
suy dinh dưỡng
cơ thể phát triển chậm , kém thông minh , bị bướu cổ

Phần II. Tự luận:

Câu 9. (1điểm) Em cần làm gì để phòng tránh tai nạn đuối nước?

.....

.....

.....

.....

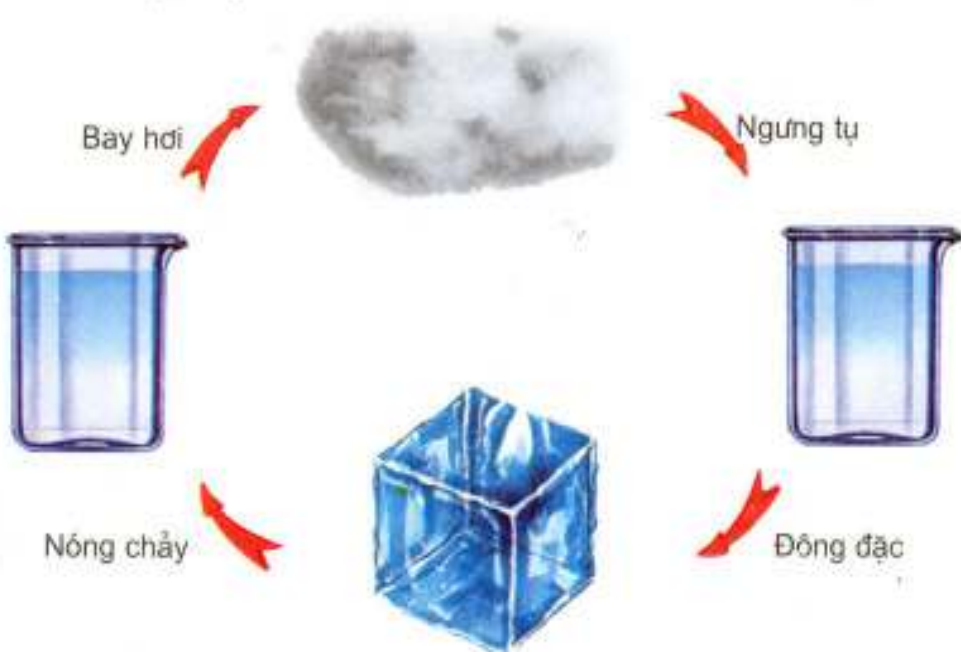
.....

Câu 10. (1 điểm) Để phòng các bệnh suy dinh dưỡng ta cần làm gì?

.....

.....

.....

	ĐÁP ÁN + BIỂU ĐIỂM KIỂM TRA CHẤT LƯỢNG CUỐI HỌC KÌ I Năm học: 2021-2022 Môn: Khoa học – Khối 4	Hướng dẫn chấm
Câu	Đáp án	
1	C	1 điểm
2	D	1 điểm
3	C	1 điểm
4	A	1 điểm
5	C	1 điểm
6	B	1 điểm
7		1 điểm
8	Thiếu chất đạm – suy dinh dưỡng Thiếu Vi-ta-min A – mắt kém	1 điểm

	<p>Thiếu i-ốt - cơ thể phát triển chậm , kém thông minh , bị bướu cổ</p> <p>Thiếu Vi-ta-min D - bị còi xương</p>	
9	<ul style="list-style-type: none"> - Tham gia lớp tập bơi, tuân thủ các quy định của bể bơi - Không chơi gần ao hồ, sông, suối..., - Không đùa nghịch khi ngồi trên thuyền - Không lội qua suối khi trời mưa lũ, dông bão - Chấp hành tốt các quy định về an toàn khi tham gia các phương tiện giao thông đường thủy. 	1 điểm
10	<p>Để phòng các bệnh suy dinh dưỡng ta cần:</p> <ul style="list-style-type: none"> - Ăn đủ lượng và đủ chất - Đối với trẻ em cần được theo dõi cân nặng và chiều cao. - Nếu phát hiện trẻ bị các bệnh do thiếu chất dinh dưỡng thì phải điều chỉnh thức ăn cho hợp lí và nên đưa trẻ đến bệnh viện để khám và chữa trị. 	1 điểm

MA TRẬN ĐỀ KIỂM TRA CUỐI HỌC KÌ I NĂM HỌC 2021 – 2022

MÔN : KHOA HỌC KHỐI 4

Mạch kiến thức, kỹ năng	Số câu và số điểm	Mức 1		Mức 2		Mức 3		Mức 4		Tổng	
		TN KQ	TL	TN KQ	TL	TN KQ	TL	TN KQ	TL	TN KQ	TL
1. Dinh dưỡng: - Ăn phối hợp nhiều loại thức ăn - Một số bệnh do thiếu chất dinh dưỡng	Số câu	1		1		1				3	
	Số điểm	1		1		1				3	
2 . Nước: - Tính chất của nước - Sơ đồ vòng tuần hoàn của nước - Biết bảo vệ nguồn nước - Biết tiết kiệm nước	Số câu	1		1			1			2	2
	Số điểm	1		1			1			2	2
3 . Không khí - Không khí có những tính chất gì - Không khí gồm những thành phần nào	Số câu	2								3	
	Số điểm	2								3	
4. Phòng bệnh -Phòng một số bệnh lây qua đường tiêu hóa -Phòng một số bệnh do thiếu chất dinh dưỡng	Số câu			1					1		
	Số điểm			1					1		
Tổng	Số câu	4		3		1	1		1	8	2
	Số điểm	4		3		1	1		1	8	2

MA TRẬN CÂU HỎI CUỐI HỌC KÌ I NĂM HỌC 2021 – 2022
MÔN KHOA HỌC KHỐI 4

Mạch kiến thức, kỹ năng	Số câu và câu số	Mức 1		Mức 2		Mức 3		Mức 4		Tổng	
		TN KQ	TL	TN KQ	TL	TN KQ	TL	TN KQ	TL	TN KQ	TL
1. Dinh dưỡng: - Ăn phối hợp nhiều loại thức ăn - Một số bệnh do thiếu chất dinh dưỡng	Số câu	1		1		1				3	
	Câu số	4		5		8				4,5,8	
2. Nước: - Nước có tính chất gì - Sơ đồ vòng tuần hoàn của nước - Biết bảo vệ nguồn nước - Biết tiết kiệm nước	Số câu	1		1			1		1	2	2
	Câu số	1		7			9			1,7	9
3. Không khí - Không khí có những tính chất gì - Không khí gồm những thành phần nào	Số câu	2								3	
	Câu số	2,3								2,3,6	
4. Phòng bệnh	Số câu			1					1		
	Câu số			6					10		
Tổng	Số câu	4		3		1	1		1	8	2
	Câu số	4,1, 2,3		5,6, 7		8	9		10	4,5,8,1, 7,2,3,6	9,10